

Ένα παραμύθι για τον αριθμό



Ειρήνη Πετρίδου





1 2 3 4 5

















6





6

1

2

3

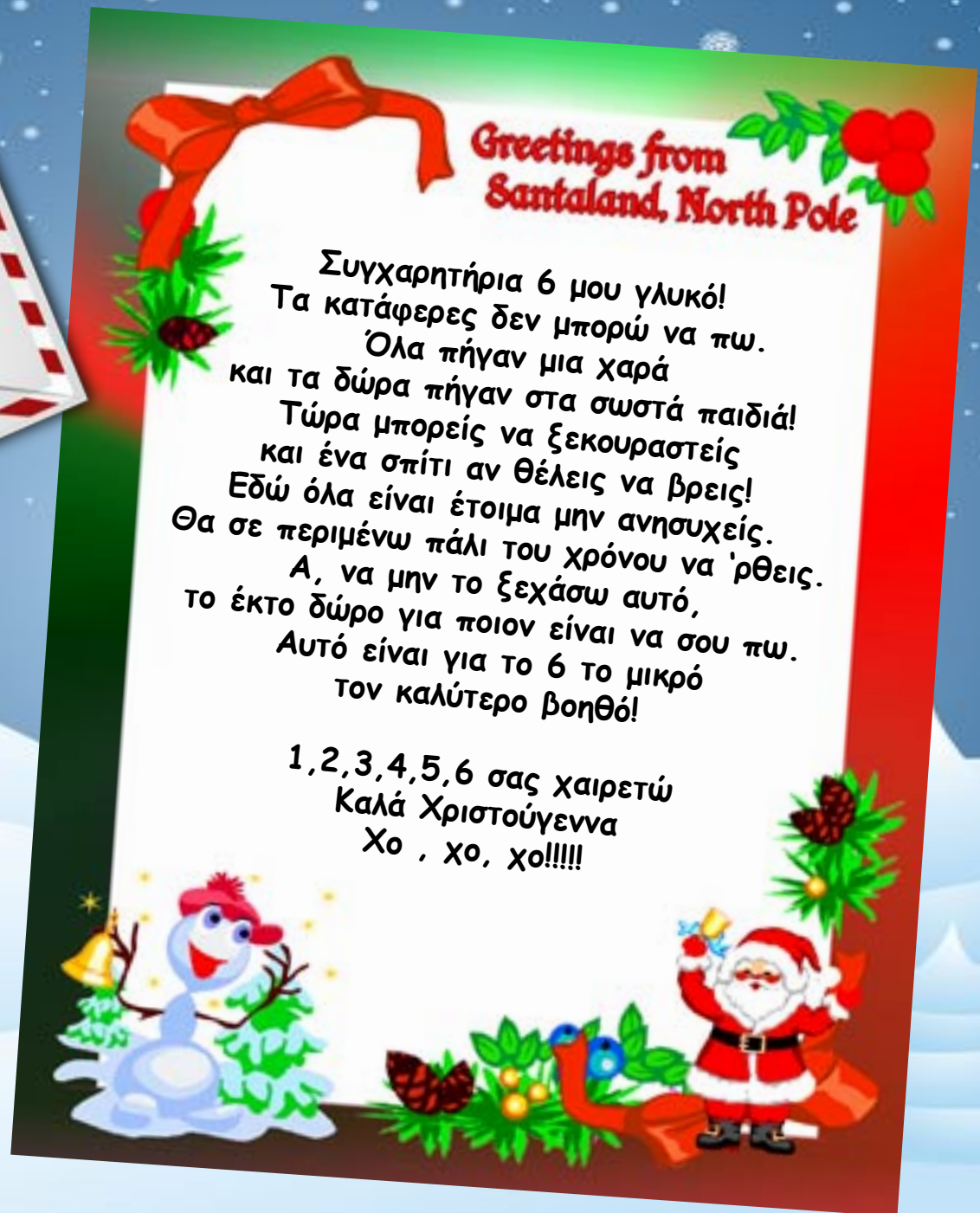
4

5











6

6

6

1

3

5

2

4

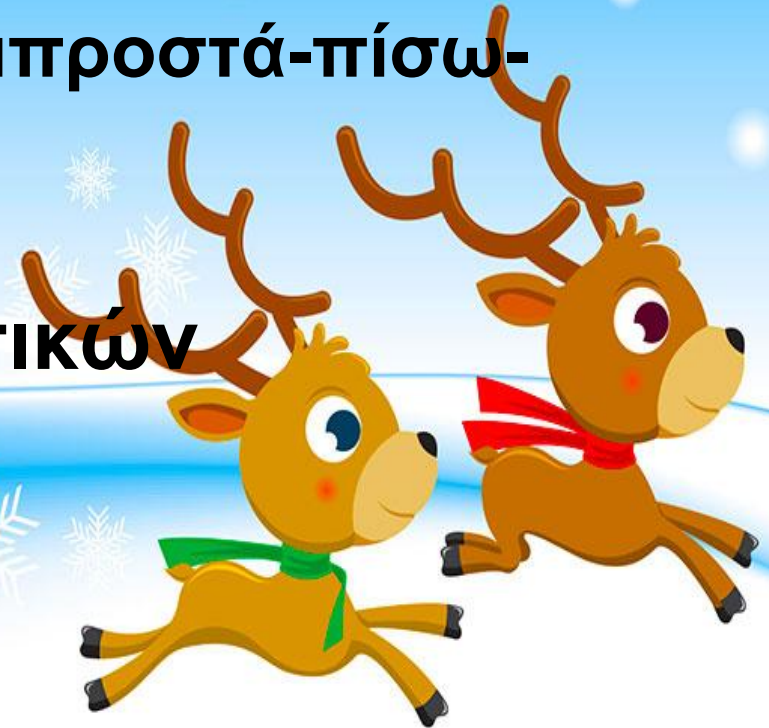
6

Ωρα για παιχνίδι

Ερωτήσεις κατανόησης

(έννοιες πάνω-κάτω-δίπλα-μπροστά-πίσω-μέσα-έξω)

Δραστηριότητες μαθηματικών



Πόσα είναι;



1 2 3 4 5 6

Πόσα είναι;



1 2 3 4 5 6

Πόσα είναι;



1 2 3 4 5 6

Πόσα είναι;



1 2 3 4 5 6

Πόσα είναι;



1 2 3 4 5 6

Πόσα είναι;



1 2 3 4 5 6



- Ας σχεδιάσουμε τον αριθμό 6 με το δαχτυλάκι μας στον αέρα
- Ας το γράψουμε τώρα και στο χαρτί
- Δείξτε μου 6 δαχτυλάκια
- Μετρήστε 6 μαρκαδόρους
- Ας χτυπήσουμε 6 φορές παλαμάκια
- Ας φτιάξουμε τον αριθμό 6 με πλαστελίνη

Το 1 πήγε να ψάξει στον λόφο.
Που βρήκε το δώρο;



πάνω στο δέντρο



κάτω από το δέντρο



πίσω από το δέντρο

Το 2 πήγε να ψάξει στο ποτάμι.
Που βρήκε το δώρο;



μέσα στο ποτάμι



έξω από το ποτάμι

Το 3 πήγε να ψάξει στη λιμνούλα.
Που βρήκε το δώρο;



δίπλα στο παγκάκι



μπροστά από το
παγκάκι



πάνω στο παγκάκι

Το 4 πήγε να ψάξει στην πόλη.
Που βρήκε το δώρο;



στη μέση του δρόμου



στην άκρη του δρόμου




Το 5 πήγε να ψάξει στο δάσος.
Πόσα δώρα βρήκε;



1

2

Οι αριθμοί μπερδεύτηκαν. Μπορείς να τους βάλεις στη σειρά
από το 1 έως το 6;



Γεια σας παιδιά!!!

